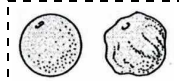


① 親から子へ伝えられる生物の形・色・大きさなどの特徴を ----- ア   
何というか。

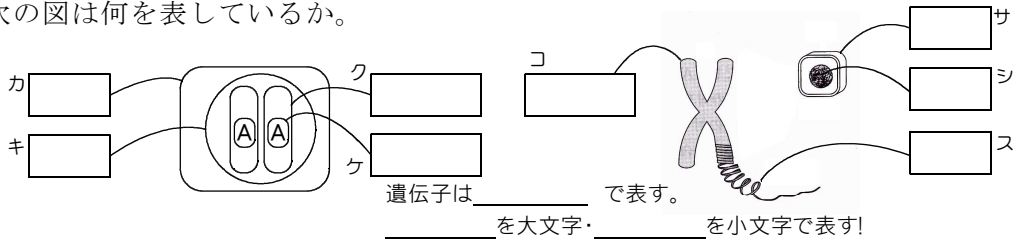
② エンドウの種子の形の「丸」と「しわ」の①のように、  
どちらしか現れない①どうしのことを何というか。  イ

③ ①が子や孫の世代に現れることを何というか。----- ウ

④ 染色体にあり、親から子へ①を伝えるものを何というか。----- エ

⑤ ④の本体は何か。----- オ

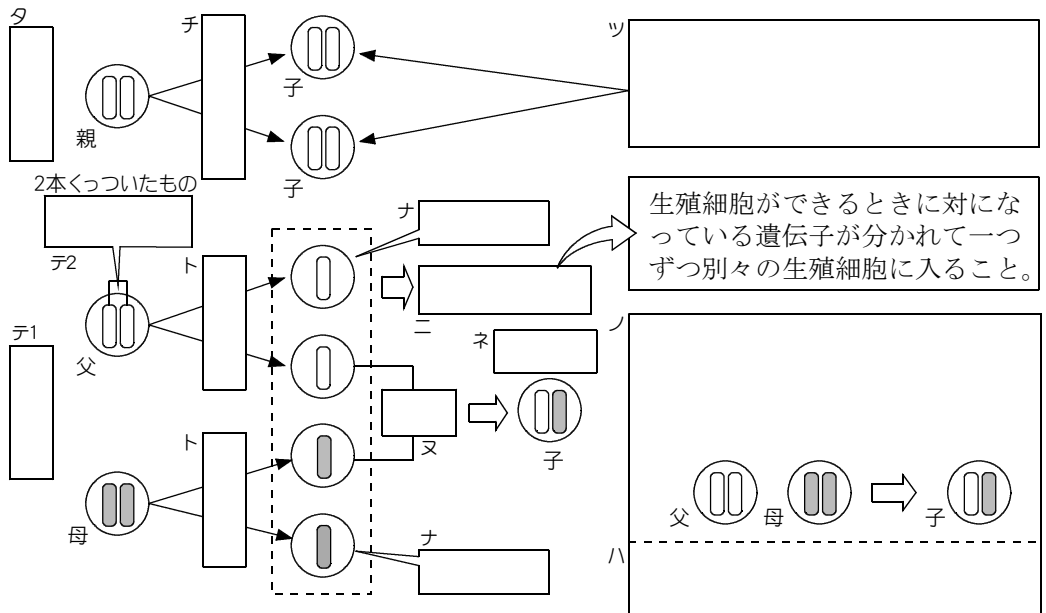
⑥ 次の図は何を表しているか。



⑦ 子に現れる①を何というか。----- セ

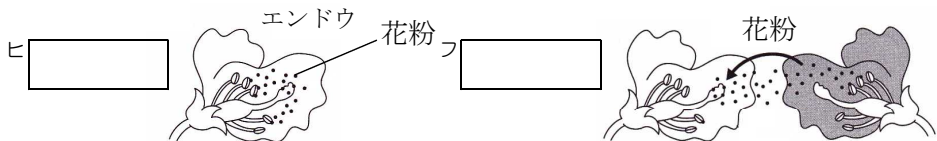
⑧ 子に現れない①を何というか。----- ソ

⑨ 下の図の遺伝子の伝わり方は、無性生殖と有性生殖のどちらか。



⑩ 花粉を同じ花のめしべにつけることを何というか。

花粉を違う種類の花のめしべにつけることを何というか。



⑪ \_\_\_\_\_ で親,子,孫と同じ形質になるグループを何というか。ホ