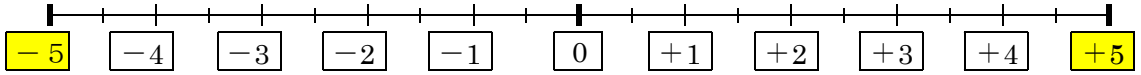


絶対値 … その数から原点「0」までの距離。

問題1 絶対値が5より小さい整数を、小さい方から順に書きなさい

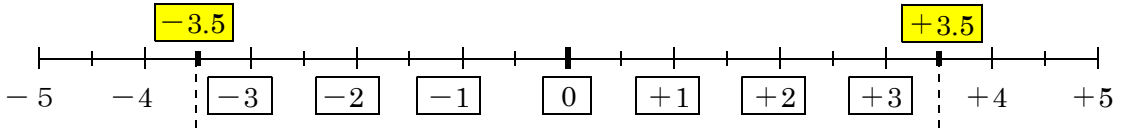
求め方

+5と-5の間の整数すべて!



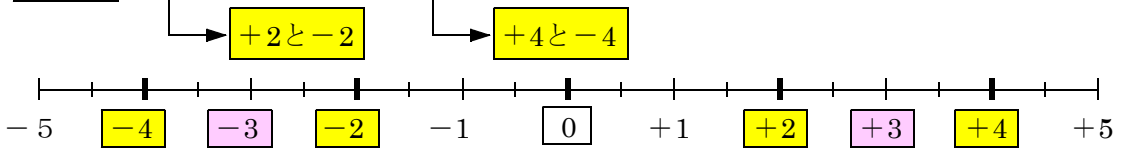
-4, -3, -2, -1, 0, +1, +2, +3, +4

問題2 絶対値が3.5より小さい整数を、小さい方から順に書きなさい



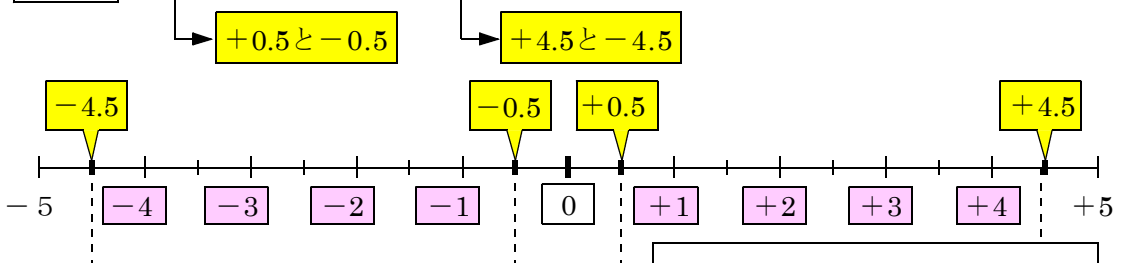
-3, -2, -1, 0, +1, +2, +3

問題3 絶対値が2より大きく4より小さい整数を、小さい方から順に書きなさい



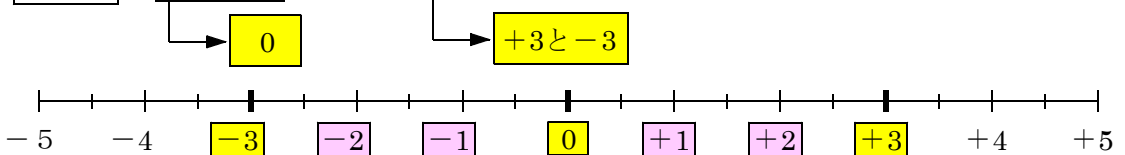
-3, +3

問題4 絶対値が0.5より大きく4.5より小さい整数を、小さい方から順に書きなさい



-4, -3, -2, -1, +1, +2, +3, +4

問題5 絶対値が0より大きく3より小さい整数を、小さい方から順に書きなさい



-2, -1, +1, +2