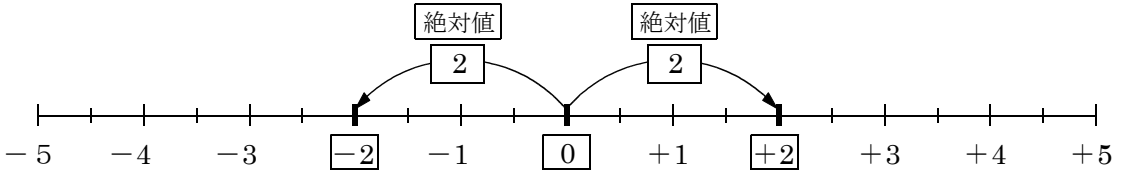


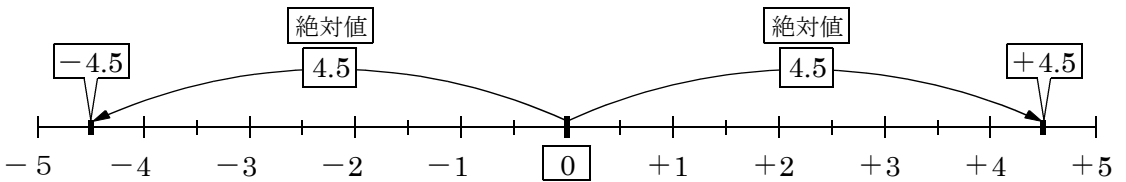
絶対値 … その数から原点「0」までの距離。

問題1 絶対値が2になる数をいえ。0から2はなれている数  $\Rightarrow$  +2, -2

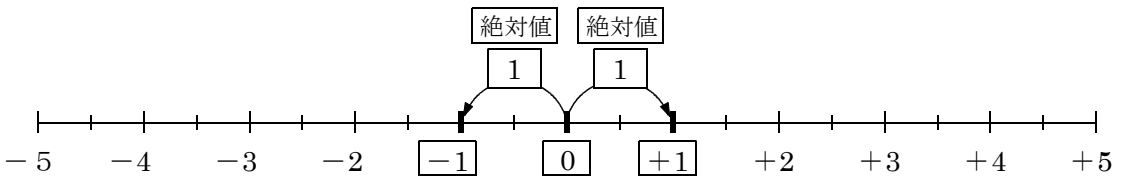
(求め方) +・-の2つの数で答える。「0」は特別!



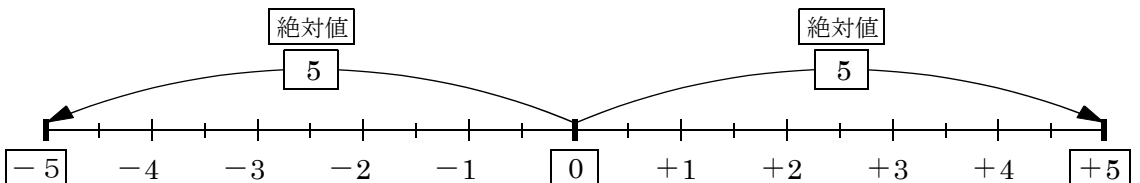
問題2 絶対値が4.5になる数をいえ。0から4.5はなれている数  $\Rightarrow$  +4.5, -4.5



問題3 絶対値が1になる数をいえ。0から1はなれている数  $\Rightarrow$  +1, -1



問題4 絶対値が5になる数をいえ。0から5はなれている数  $\Rightarrow$  +5, -5



問題5 絶対値が0になる数をいえ。0から0はなれている数  $\Rightarrow$  0

