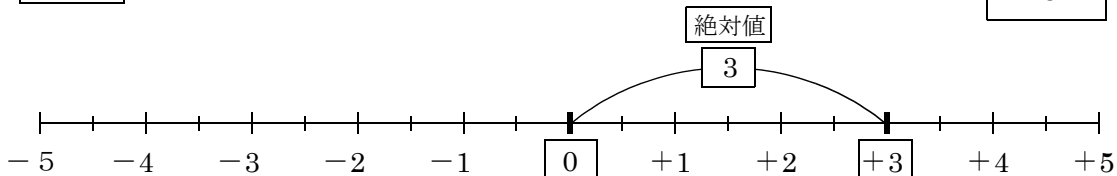


絶対値 … その数から原点「0」までの距離。

(求め方) +や-の符号をとった数

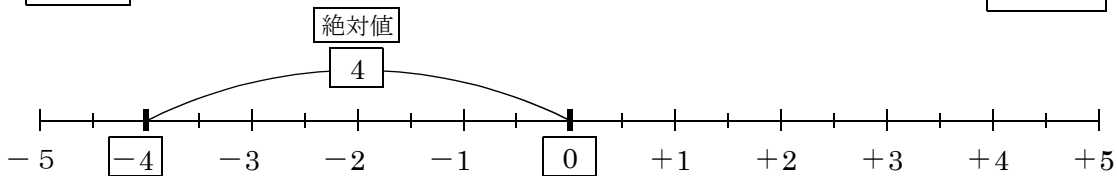
問題1 +3の絶対値をいえ。(+3は0からどのくらい離れていますか)

3



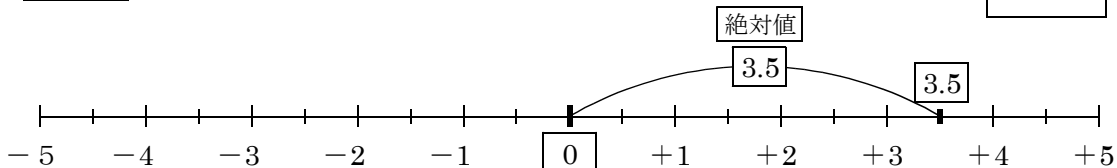
問題2 -4の絶対値をいえ(-4は0からどのくらい離れていますか)。

4



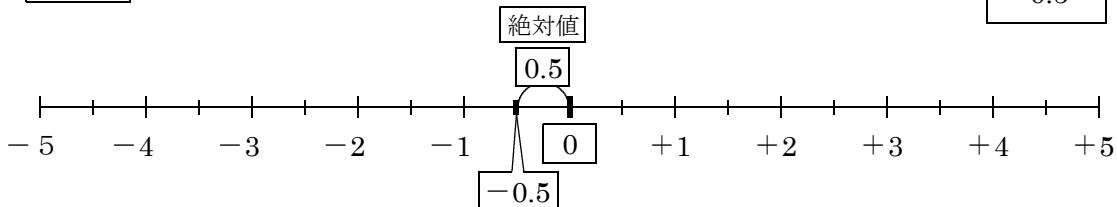
問題3 3.5の絶対値をいえ(3.5は「+3.5」と考える)。

3.5



問題4 -0.5の絶対値をいえ。

0.5



問題5 0の絶対値をいえ。

0

