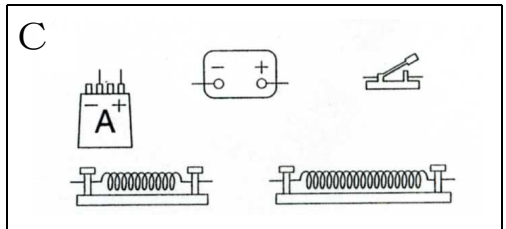
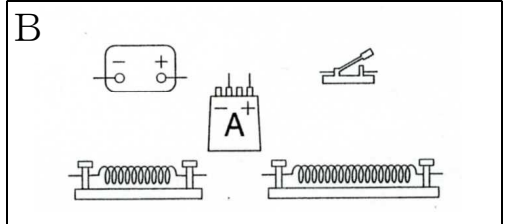
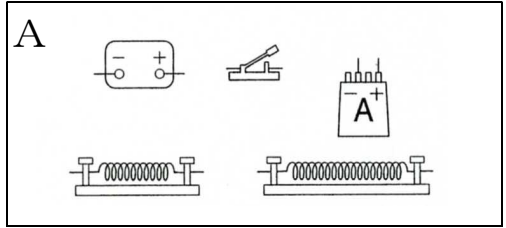
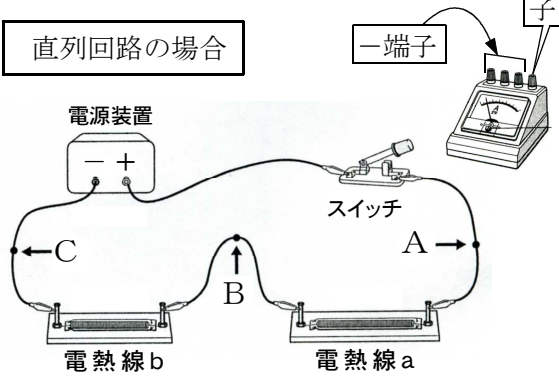


図の回路のA～G点の流れる電流の強さをはかるには電流計をどのようにつなげばよいか、それぞれ線でつなぎなさい。

直列回路の場合



- ① 電流計は回路に  につなぐ。  
 ② 電流計の  と電源の  をつなぐ  
 ③ 電流計の  と電源の  をつなぐ

並列回路の場合

