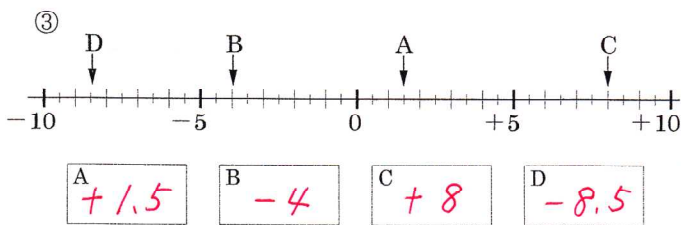
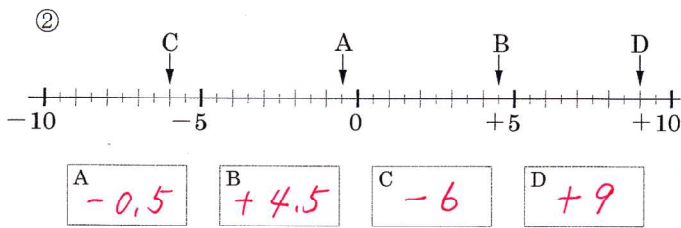
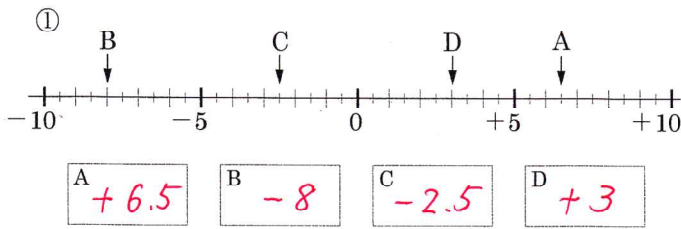


| | |
|---|-------|
| / | 解説 |
| / | NO1~3 |

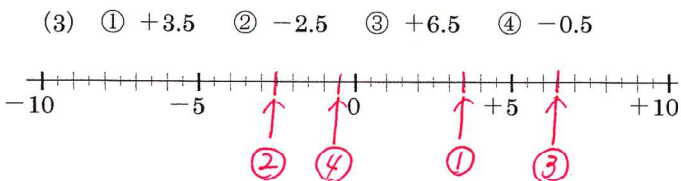
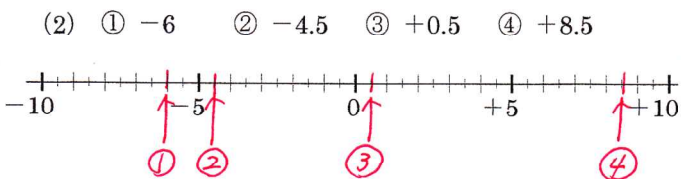
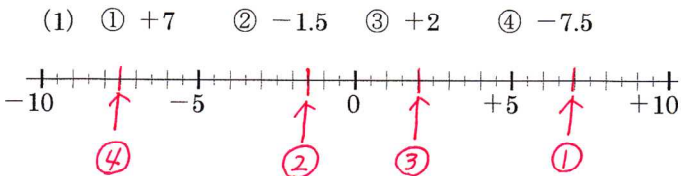
| | |
|------------|--------------|
| 正負の数復習 NO1 | |
| 中 1 | NO 1 ~ 4 - ① |

| | |
|------|---------|
| NAME | mistake |
| | |

問題1 次の数直線で点A, B, C, Dに対応する数を書け。



問題2 次の数に対応する点を、下の数直線上に表せ。



問題3 次の各組の数の大小を、不等号を使って表せ。

- ① $+3, -5$ $-5 < +3$
- ② $-4, 0$ $-4 < 0$
- ③ $-6, -1$ $-6 < -1$
- ④ $-0.7, -2$ $-2 < -0.7$
- ⑤ $+1, -3, 0$ $-3 < 0 < +1$
- ⑥ $-8, +4.5, -2.5$ $-8 < -2.5 < +4.5$
- ⑦ $-1.9, +0.7, -2.6$ $-2.6 < -1.9 < +0.7$
- ⑧ $-\frac{3}{5}, +\frac{1}{2}, -\frac{1}{4}$ $-\frac{3}{5} < -\frac{1}{4} < +\frac{1}{2}$

問題4 次の□の中から①~③にあてはまる数それぞれ選び出せ。

- (1) $-8, +7, -2.3, 0, -\frac{1}{7}, 5, +\frac{1}{8}, +0.5$
- ①負の数 ②負の整数 ③自然数
- $-8, -2.3, -\frac{1}{7}$ -8 $+7, 5$

- (2) $+1.2, -3, -\frac{2}{3}, 0, +4, -7.5, +\frac{5}{6}, 1, -9$
- ①正の数 ②負の整数 ③自然数
- $+1.2, +4, +\frac{5}{6}, 1$ $-3, -9$ $+4, 1$

- (3) $8, -5, -\frac{4}{3}, 0, +\frac{6}{5}, -3.1, -1, +2, +4.5$
- ①負の数 ②負の整数 ③自然数
- $-5, -\frac{4}{3}, -3.1, -1$ $-5, -1$ $8, +2$