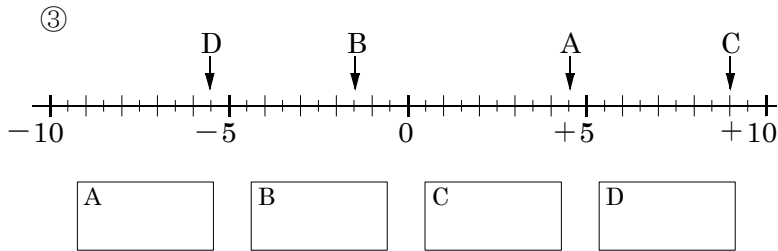
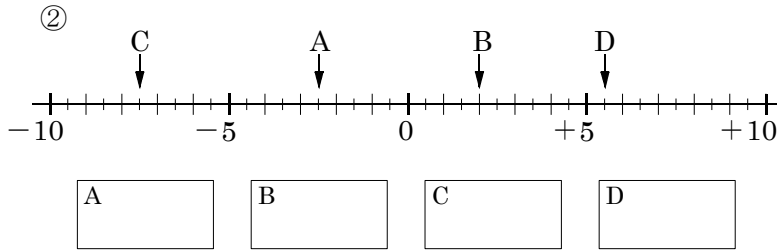
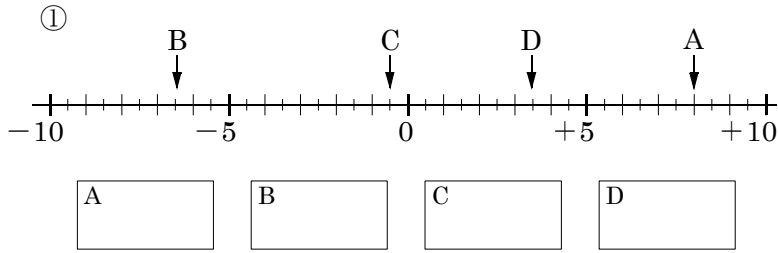


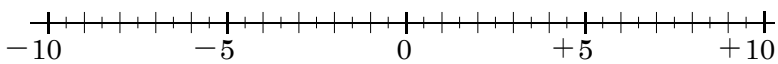
開始日	終了日	解説	中 1	正負の数 NO1~3	NAME	MISS
/	/	NO 1~3				

問題1 次の数直線で点A,B,C,Dに対応する数を書け。

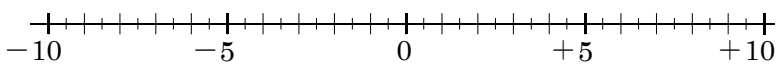


問題2 次の数に対応する点を、下の数直線上に表せ。

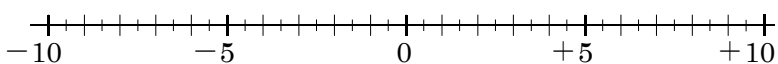
- (1) ① -6 ② +2.5 ③ -8.5 ④ +3.5



- (2) ① -0.5 ② -7 ③ +4.5 ④ +7.5



- (3) ① +0.5 ② -5.5 ③ +9.5 ④ -1



問題3 次の各組の数の大小を、不等号を使って表せ。

- ① -9, -8 _____
- ② -0.1, 0 _____
- ③ +1.3, -2 _____
- ④ -4.5, -5.4 _____
- ⑤ 0, -0.1, +0.1 _____
- ⑥ $-\frac{2}{5}$, $+\frac{3}{2}$, $-\frac{1}{4}$ _____
- ⑦ $-\frac{3}{4}$, $+\frac{2}{3}$, $-\frac{1}{2}$ _____
- ⑧ $-\frac{1}{5}$, $+\frac{1}{3}$, -0.25 _____

問題4 次の の中から①~③にあてはまる数をそれぞれ選び出せ。

- (1) $6, +1.3, -0.7, 0, -\frac{5}{8}, +1, +\frac{1}{8}, -2$

- ①負の数 ②負の整数 ③自然数

- (2) $+\frac{5}{6}, -7, -\frac{3}{5}, 0, +3, -1.1, +\frac{5}{4}, -8.1$

- ①正の数 ②負の整数 ③自然数

- (3) $-0.9, +\frac{5}{6}, +25, -\frac{1}{2}, -3, +4, +8.5, -6$

- ①負の数 ②負の整数 ③自然数