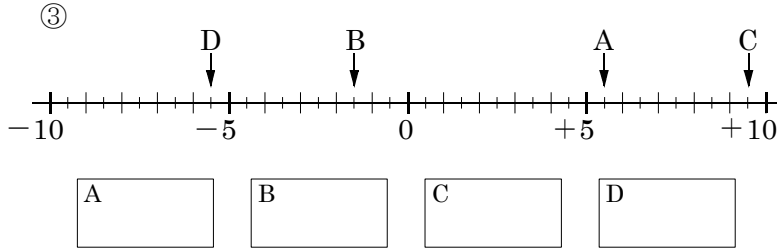
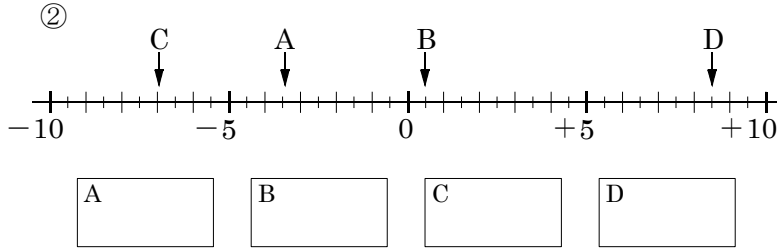
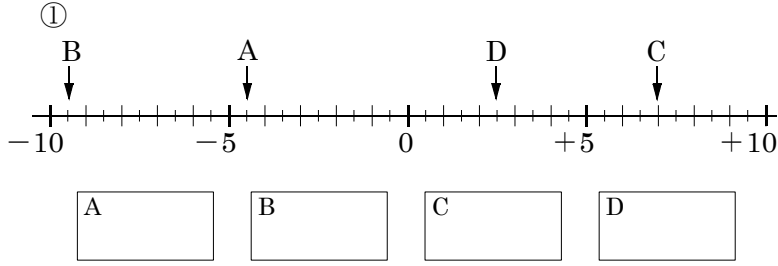


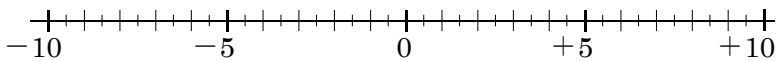
開始日 /	終了日 /	解説 NO 1~3	中 1	正負の数 NO1~3		NAME	MISS

問題1 次の数直線で点A,B,C,Dに対応する数を書け。

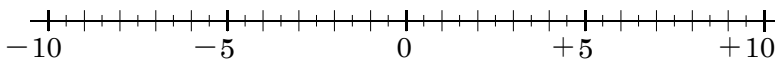


問題2 次の数に対応する点を、下の数直線上に表せ。

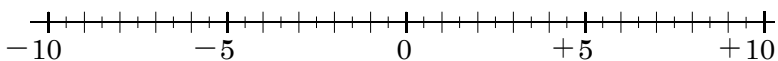
- (1) ① +5.5 ② -7.5 ③ +3 ④ -3.5



- (2) ① -9 ② -1 ③ +1.5 ④ +7.5



- (3) ① +2.5 ② -6.5 ③ +4.5 ④ -8.5



問題3 次の各組の数の大小を、不等号を使って表せ。

- ① $-3.3, -4.5$ _____
- ② $-0.5, 0, +0.2$ _____
- ③ $-3, -4.5, -7$ _____
- ④ $-0.1, -6.7, -8$ _____
- ⑤ $+0.8, -1.4, 0$ _____
- ⑥ $-\frac{1}{2}, +\frac{3}{5}, -\frac{2}{3}$ _____
- ⑦ $-\frac{5}{6}, -\frac{3}{4}, -\frac{7}{9}$ _____
- ⑧ $-\frac{2}{5}, -\frac{2}{3}, -0.52$ _____

問題4 次の の中から①~③にあてはまる数をそれぞれ選び出せ。

- (1) $+4, -\frac{5}{3}, -2, 0, -0.6, 7, +\frac{1}{8}, +5.1$

- ①正の数 ②負の整数 ③自然数

- (2) $-6, -1.5, +\frac{3}{8}, 0, +3, -7, -\frac{4}{7}, 15, +2.1$

- ①負の数 ②負の整数 ③自然数

- (3) $0.8, -1.2, +\frac{1}{5}, 0, -\frac{6}{5}, +9, -2.5, 3$

- ①正の数 ②負の数 ③自然数