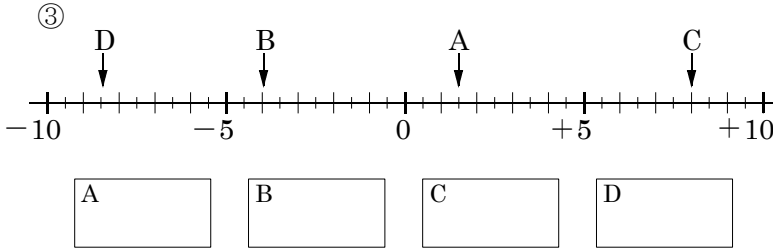
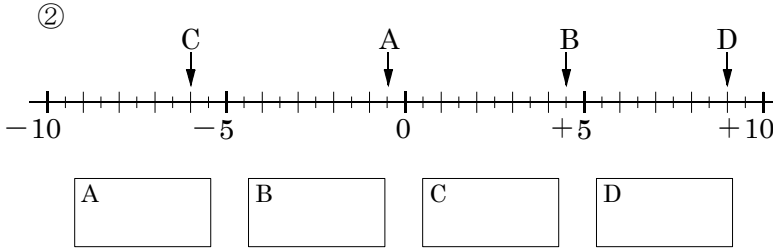
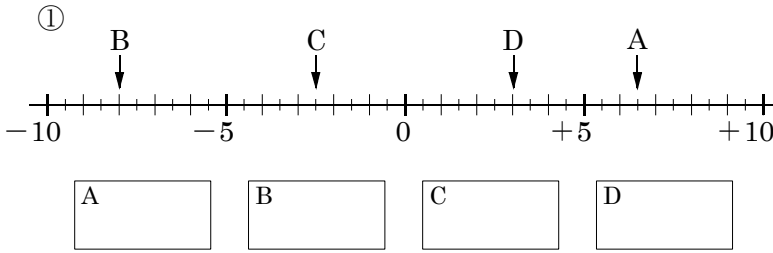


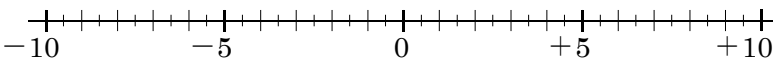
開始日	終了日	解説	中 1	正負の数 NO1~3	NAME	MISS
/	/	NO 1~3				

問題1 次の数直線で点A,B,C,Dに対応する数を書け。

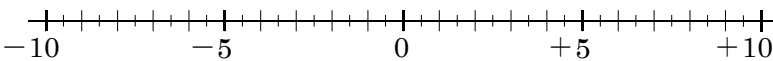


問題2 次の数に対応する点を、下の数直線上に表せ。

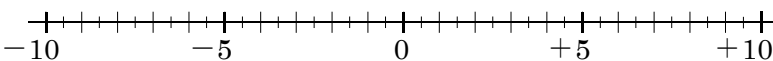
- (1) ① +7 ② -1.5 ③ +2 ④ -7.5



- (2) ① -6 ② -4.5 ③ +0.5 ④ +8.5



- (3) ① +3.5 ② -2.5 ③ +6.5 ④ -0.5



問題3 次の各組の数の大小を、不等号を使って表せ。

- ① +3, -5
- ② -4, 0
- ③ -6, -1
- ④ -0.7, -2
- ⑤ +1, -3, 0
- ⑥ -8, +4.5, -2.5
- ⑦ -1.9, +0.7, -2.6
- ⑧ $-\frac{3}{5}$, $+\frac{1}{2}$, $-\frac{1}{4}$

問題4 次の□の中から①~③にあてはまる数をそれぞれ選び出せ。

- (1)

- ①負の数 ②負の整数 ③自然数

- (2)

- ①正の数 ②負の整数 ③自然数

- (3)

- ①負の数 ②負の整数 ③自然数