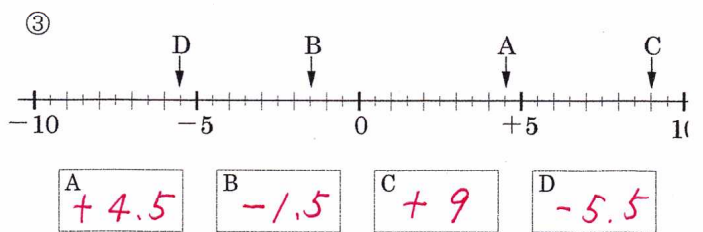
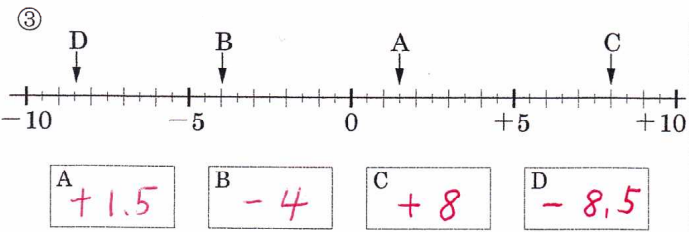
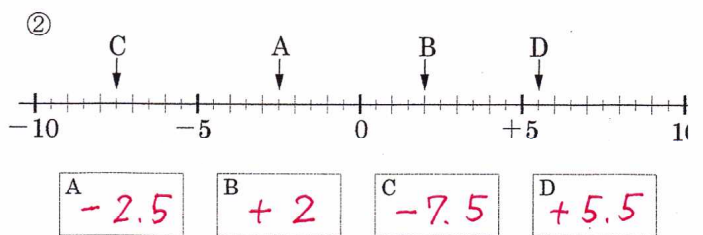
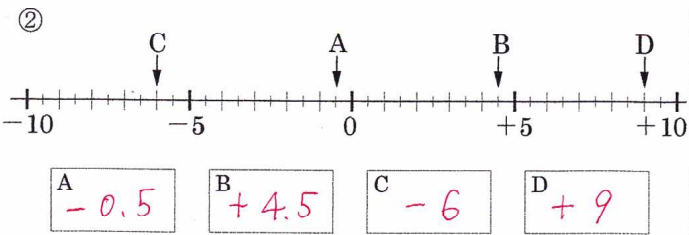
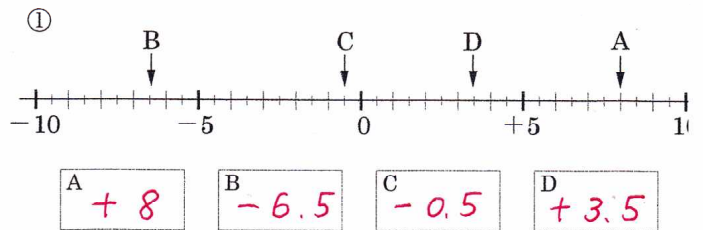
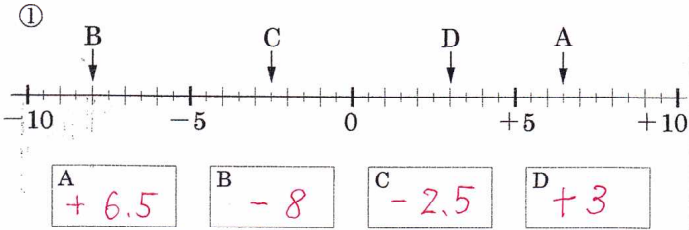


名 前	解 説	中 1	正負の数NO1				正 問	正 解	月
	NO1		数直線の読み方①					48	日

数直線の読み方①

問題1 次の数直線で点A,B,C,Dに対応する数を書け。

問題3 次の数直線で点A,B,C,Dに対応する数を書け。



問題2 次の数直線で点A,B,C,Dに対応する数を書け。

問題4 次の数直線で点A,B,C,Dに対応する数を書け。

