

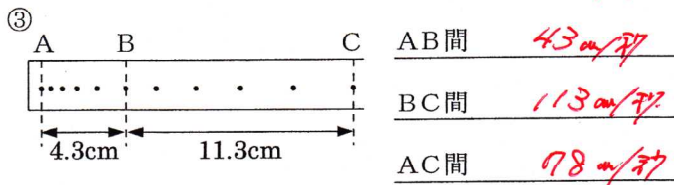
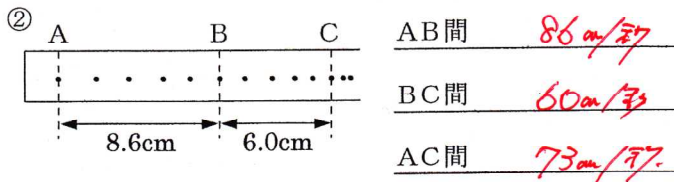
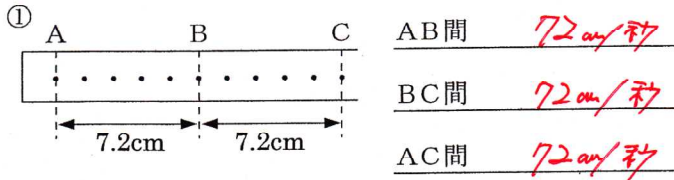
/	解説
/	NO4

中3理科運動と力 NO2
記録タイマー①

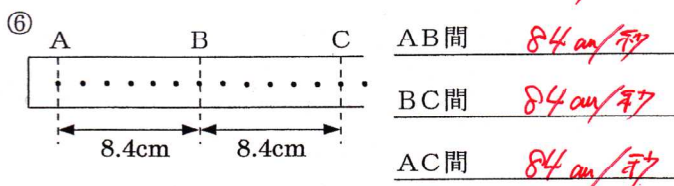
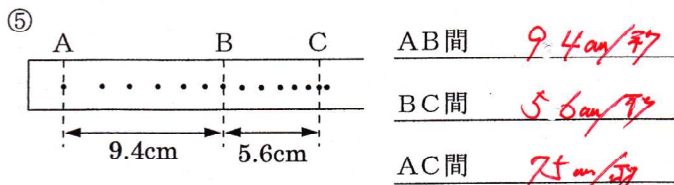
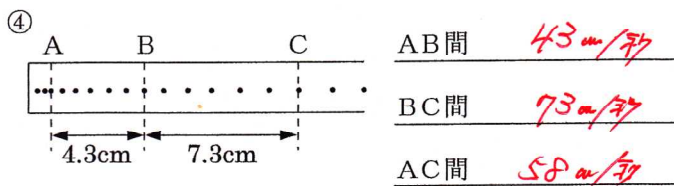
NAME	

問題1 紙テープの記録から各区間の平均の速さを求めよ。 問題2 紙テープの記録から各区間の平均の速さを求めよ。

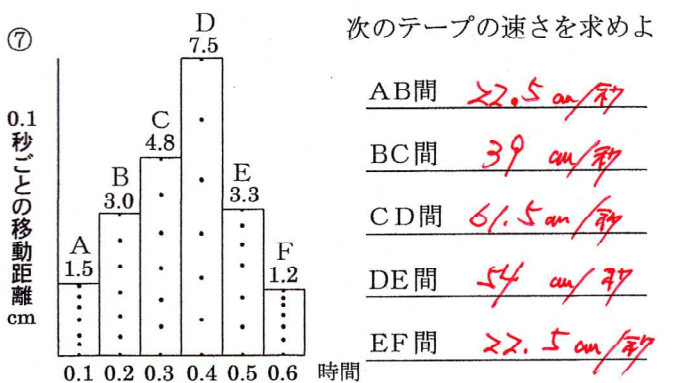
$\frac{1}{50}$ 秒ごとに打点する記録タイマーを使用



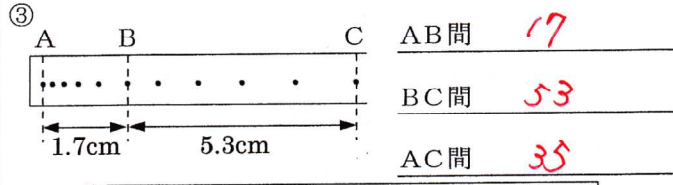
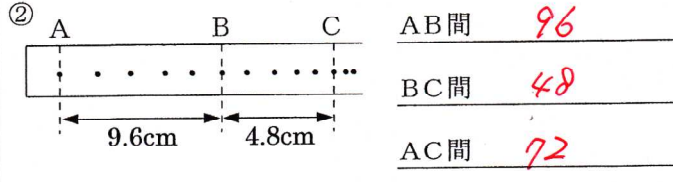
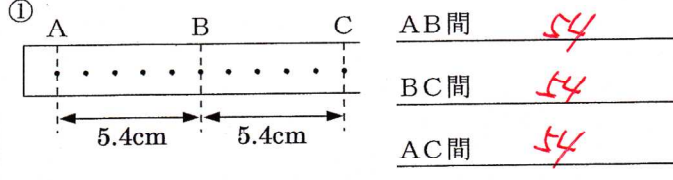
$\frac{1}{60}$ 秒ごとに打点する記録タイマーを使用



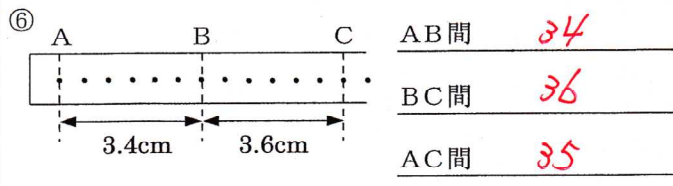
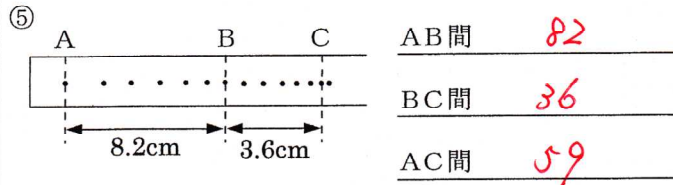
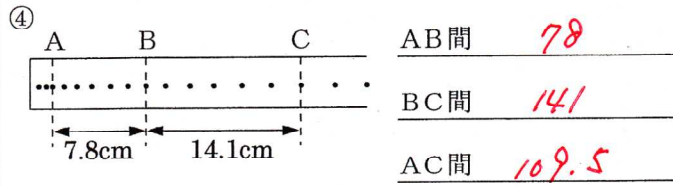
$\frac{1}{60}$ 秒ごとに打点する記録タイマーを使用



$\frac{1}{50}$ 秒ごとに打点する記録タイマーを使用



$\frac{1}{60}$ 秒ごとに打点する記録タイマーを使用



$\frac{1}{60}$ 秒ごとに打点する記録タイマーを使用

