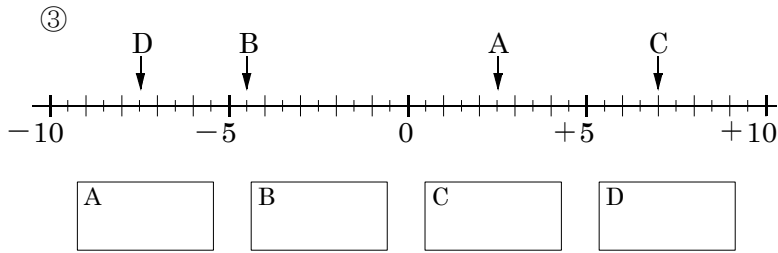
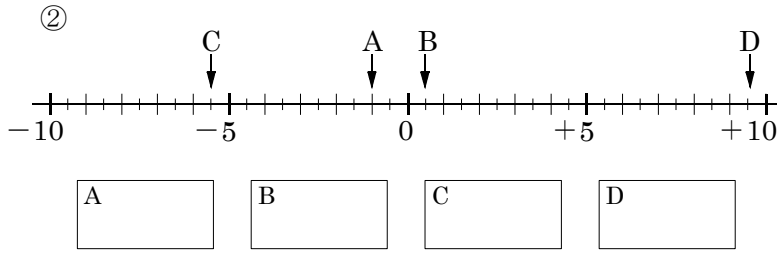
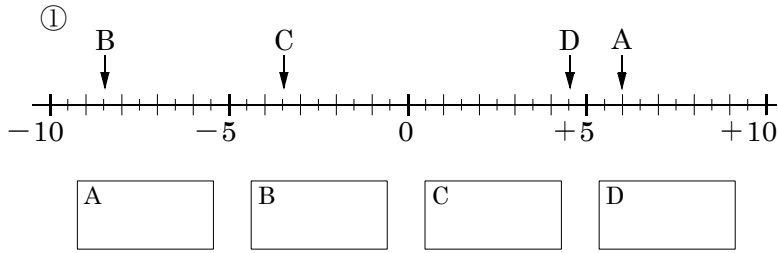


/	解説
/	NO1~3

正負の数復習NO1
中 1

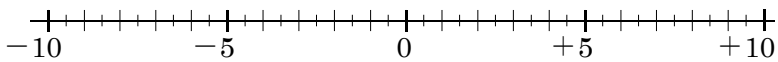
NAME	mistake

問題1 次の数直線で点A,B,C,Dに対応する数を書け。

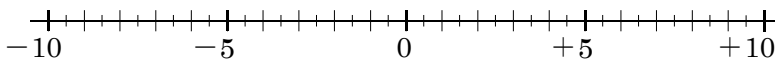


問題2 次の数に対応する点を、下の数直線上に表せ。

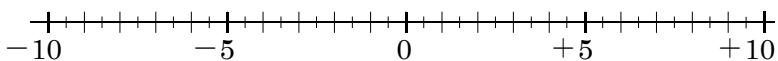
- (1) ① +1.5 ② -6.5 ③ +1 ④ -8



- (2) ① -7.5 ② +3.5 ③ -4.5 ④ +6



- (3) ① -0.5 ② +5.5 ③ -9.5 ④ +2.5



問題3 次の各組の数の大小を、不等号を使って表せ。

- ① -0.8, -0.9 _____
 ② 0.5, 0 _____
 ③ -1.5, +1.4 _____
 ④ -3.2, -2.3 _____
 ⑤ +0.5, 0, -0.1 _____
 ⑥ $-\frac{1}{3}$, $+\frac{2}{5}$, $+\frac{3}{10}$ _____
 ⑦ $\frac{1}{4}$, $-\frac{6}{5}$, -1.1 _____
 ⑧ $-\frac{3}{5}$, $-\frac{5}{8}$, -0.5 _____

問題4 次の□の中から①~③にあてはまる数をそれぞれ選び出せ。

- (1) $-2, -0.3, 6, 0, +\frac{7}{4}, -5, -\frac{3}{8}, +7$

- ①負の数 ②負の整数 ③自然数

- (2) $-\frac{1}{2}, +0.1, +\frac{3}{4}, 0, +25, -1, -\frac{1}{3}, -8$

- ①正の数 ②負の整数 ③自然数

- (3) $+9, -\frac{4}{7}, -4.2, +\frac{4}{5}, 11, 0, -7, -95$

- ①負の数 ②負の整数 ③自然数