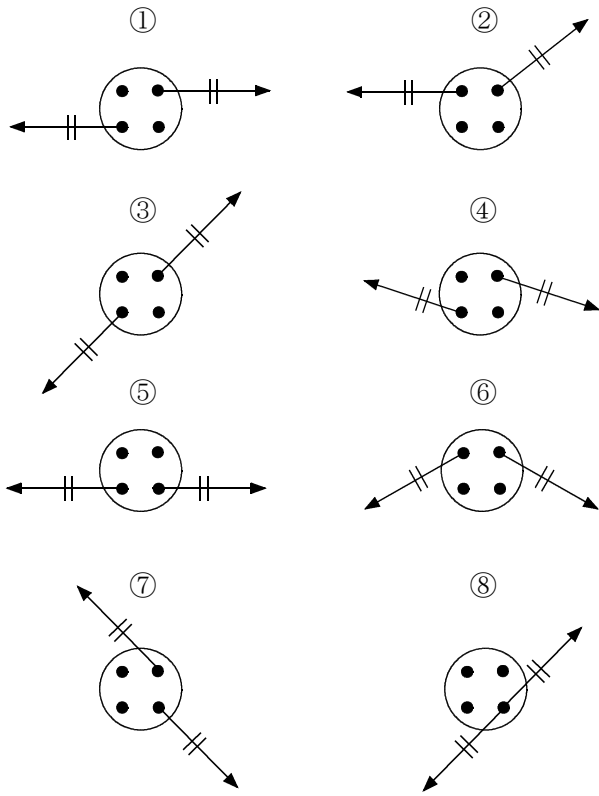


/	解説
/	NO1・2

中3 運動とエネルギー NO1
中3 力のつり合いと合成②

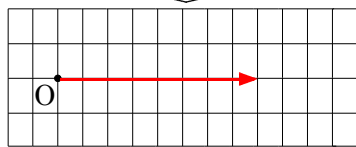
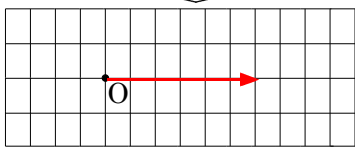
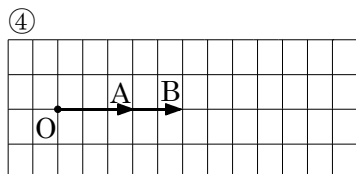
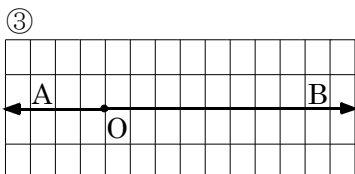
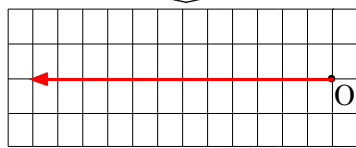
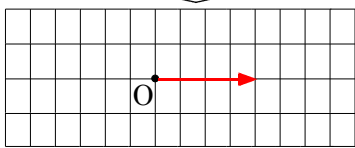
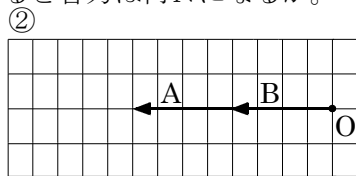
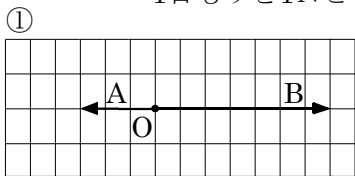
NAME	mistake

問題1 次の2つの力がつり合っているもの選べ。



3, 5, 8

問題2 ①~④のAとBの力の合力を作図せよ。また1目もりを1Nとすると合力は何Nになるか。



問題3 力Aと力Bの合力を作図せよ。

